	İLKOKULU	4/ SINIFI
	2014 – 2015 EĞİTİM ÖĞRETİM YILI	SOSYAL BİLGİLER 1. DÖNEM 2. SINAV
	Adı Soyadı : Numarası :	

SOSYAL BİLGİLER DERSİ 1. DÖNEM 2. DEĞERLENDİRME

1. Aşağıdaki tümcelerden doğru olanların başına "D", yanlış olanlara "Y" yazınız. (10 p)

- () Bir konuda harekete geçmeden önce duygularımızı, akıl ve mantık süzgecinden geçirmeliyiz.
- () Kronolojik sıralama, olayların öncelik sıralamasını gösterir.
- () İlgi ve yeteneklerimiz bizim fiziksel özelliklerimizdendir.
- () Türklerin at üzerinde ellerinde sopa ile oynadıkları milli spora "cirit" denir.
- () Türküler, maniler ve ninniler kültürel öğelerimizdendir.
- () Mondros Ateşkes Antlaşması Osmanlı Devleti açısından çok ağır şartlar içermiştir.
- () 19 Mayıs 1919 tarihinden 29 Ekim 1923 Cumhuriyetin ilanına kadar geçen sürece Milli Mücadele Dönemi denir.
- () İstanbul, Milli Mücadele'nin merkezi olmuştur.
- () Milli cemiyetlerin hepsi Anadolu ve Rumeli Müdafaa-i Hukuk Cemiyeti adı altında Erzurum Kongresi'nde birleştirilmiştir.
- () Mustafa Kemal'e Sakarya Savaşı'ndan sonra "Gazi" unvanı ve "Mareşallik" rütbesi verildi.

2. Aşağıdaki boşlukları tablodaki uygun sözcüklerle tamamlayınız. (10 p)

Fransızlar – İsmet Paşa – Erzurum – ata – Ermeniler – Şahin Bey – Lozan Barış Antlaşması – Amasya – İtilaf – Ankara

* Güreş, cirit ve okçuluk geçmişte Türklerin oynadığı _____ sporlarıdır.

- * Kurtuluş Savaşı'nın gerekçesi, amacı ve yöntemi _____ Genelgesi ile belirlendi.
- * _____ Kongresi'nde Temsil Heyeti seçildi, Mustafa Kemal başkanlığa getirildi.
- * _____, Kurtuluş Savaşı'nın yönetildiği ildir.
- * İngiltere, Fransa, Rusya, İtalya _____ Devletleridir.
- * Mondros Ateşkes Antlaşması'na göre Urfa, Antep ve Maraş _____ işgal etti.
- * I. ve II. İnönü Savaşları'nın komutanı _____'dir.
- * Doğu Cephesi'nde _____le savaştık.
- * _____, Güney Cephesi'nde Fransız ve Ermenilere karşı kahramanca savaşmıştır.
- * _____ ile Türkiye Cumhuriyeti Devleti'ni İtilaf Devletleri ve tüm dünya resmen tanıdı.

3. Ailenizde ve çevrenizde kültürümüzü yansıtan öğelere 5 örnek veriniz. (5 p)

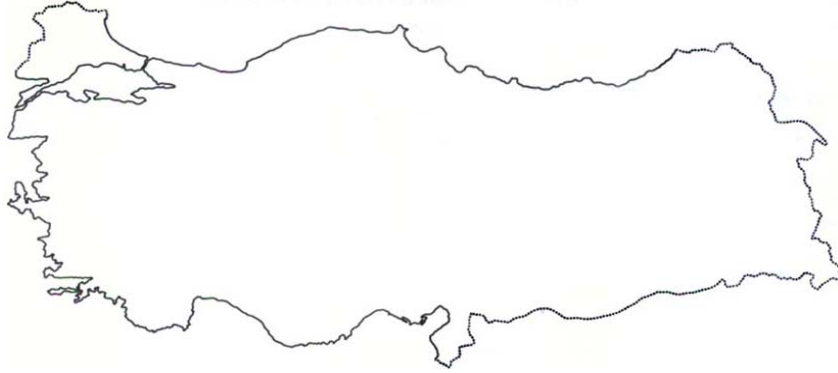
4. Batı Cephesi'nde Yunanlılara karşı yapılan savaşları sırasıyla yazınız. (5 p)

- * _____
- * _____
- * _____
- * _____
- * _____

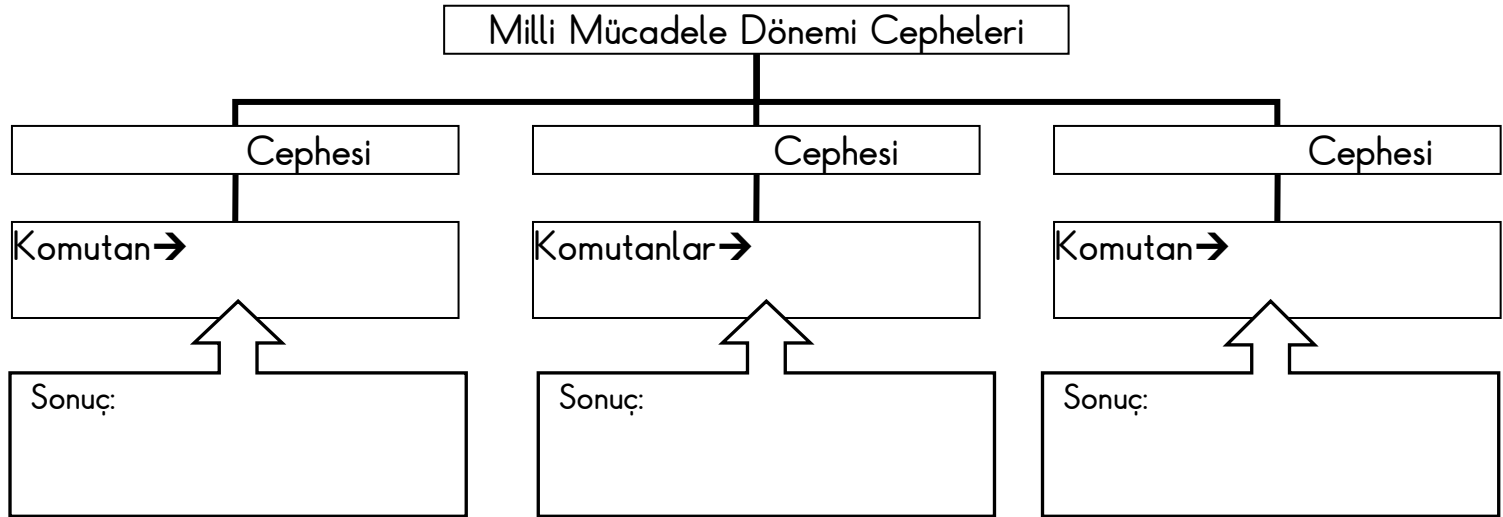
6. Aşağıda farklı milletlere ait olan birçok kültür ve sanat ögesi verilmiştir. Bunlardan Türk kültür ve sanatını içerenlerin numarasını yazınız. (8 p)

- ① türküler ② balo ③ el öpme ④ tekerlemeler ⑤ pizza ⑥ Keloğlan ⑦ karete
⑧ zeybek ⑨ hasta ziyareti ⑩ boğa güreşi ⑪ Nasrettin Hoca ⑫ asker uğurlama
⑬ beyzbol ⑭ destanlar ⑮ gelin alma ⑯ dövme ⑰ mantı ⑱ yağlı güreş
⑲ hamburger ⑳ ebru sanatı ㉑ halıcılık ㉒ nescafe ㉓ camiler ㉔ Hacivat Karagöz

7. Mondros Ateşkes Antlaşması'ndan sonra ülkemizin hangi bölgeleri, hangi ülkeler tarafından paylaşılmıştır harita üzerinde gösteriniz. (10 p)



8. Aşağıdaki tabloda boş bırakılan yerleri uygun bir şekilde tamamlayınız. (10 p)







9. Aşağıda verilen boşluğa olayların numaralarını kronolojik sıraya göre yazınız. (12 p)

(1) Büyük Taarruz ve Başkumandanlık Meydan Savaşı	(2) Erzurum Kongresi	(3) I. İnönü Savaşı
(4) TBMM'nin Açılışı	(5) Mondros Ateşkes Antlaşması'nın İmzalanması	(6) Amasya Genelgesi
(7) Atatürk'ün Samsun'a Çıkışı	(8) Sivas Kongresi	(9) Lozan Barış Antlaşması
(10) Sakarya Meydan Savaşı	(11) II. İnönü Savaşı	(12) I. Dünya Savaşı

Kronolojik sıralama → _____

Her çoktan seçmeli, soru 2 puandır.

1. Sözlü tarih çalışması yapan Selin, aşağıdaki sorulardan hangisini görüşme esnasında sormuş olamaz?


- A.  Adınız, soyadınız?
- B.  Düğünlerde nasıl bir kıyafet giyerdiniz?
- C.  Aileniz bu soyadını nereden almış?
Bir hikâyesi var mı?
- D.  Hangi yemekleri daha çok seversiniz?

2. Aşağıdakilerden hangisi milli kültürümüzün özelliklerinden değildir?

- A. Kültürümüz bizim kimliğimizi oluşturur.
- B. Kültürümüz geçmişten günümüze süre gelmiş öğelerden oluşur.
- C. Kültürümüzü yaşatmak bize hiçbir yarar sağlamaz.
- D. Kültürümüz çağın gereksinimlerine göre değişebilir.

3. Aşağıdakilerden hangisi kültürümüzün bir parçası değildir?

- A.  Dini bayramlarımız
- B.  Millî bayramlarımız
- C.  Gelenek ve göreneklerimiz
- D.  Doğum günü kutlamalarımız

4.  İnsanlar adetlerini, hislerini, ahlaklarını, eğilimlerini hatta düşüncelerini besleyip yetiştirirken, içinden çıktıkları, içinde yetiştikleri toplumun genel eğiliminden kurtulamazlar.

Atatürk'ün verilen sözüne göre aşağıdakilerden hangisine ulaşılabilir?

- A. Her toplumun kendine özgü kuralları vardır.
- B. Atatürk kültüre önem vermiştir.

C. Her insan yaşadığı toplumun kültüründen etkilenir.

D. Kişilerin birbirleriyle iletişimde aldıkları eğitimin rolü büyüktür.

5. Millî Mücadele aşağıdakilerden hangisiyle başlamıştır?

- A. Mustafa Kemal'in Samsun'a gitmesiyle
- B. Osmanlı topraklarının işgal edilmesiyle
- C. TBMM'nin açılmasıyla
- D. Mondros Ateşkes Antlaşması ile

6. *İtilaf Devletleri'nin İstanbul'u işgali üzerine Boğaz'da demirli gemilere kaygılı bir ifadeyle bakan Mustafa Kemal, yaverine "Geldikleri gibi giderler." demiştir.*

Bu söz Mustafa Kemal'in,

I. kararlılık II. ileri görüşlülük III. vatanseverlik kişilik özelliklerinden hangilerine kanıt olmuştur?

- A. I – II B. I – II – III C. yalnız III D. II – III

7. İşgal altındaki şehirlerimizde oluşan millî bilinci ülke geneline yaymak için ilk önce aşağıdakiler – den hangisi yapılmıştır?

- A. Amasya Görüşmeleri yapılmıştır.
- B. Erzurum Kongresi düzenlenmiştir.
- C. Amasya Genelgesi yayınlanmıştır.
- D. Sivas Kongresi düzenlenmiştir.

8.



Yukarıdaki resim Millî Mücadele Dönemi'ne aittir. Resme bakarak aşağıdakilerden hangisini söyleyemeyiz?

- A. Millî Mücadele'de kadınlar da var güçleriyle çalışmıştır.
- B. Türk halkı Millî Mücadele Dönemi'nde özverili davranmıştır.
- C. Türk halkı vatanseverdir.
- D. Türkler düşmana esir düşmüştür.

9. Aşağıdaki tabloda 1 . Dünya Savaşı'na katılan ülkeler yer almaktadır.

İttifak Devletleri	İtilaf Devletleri
İtalya	İngiltere
Bulgaristan	Fransa
Avusturya-Macaristan	Rusya
Osmanlı Devleti	Almanya

Tablonun doğru olması için hangi iki ülkenin yer değiştirmesi gerekir?

- A. İtalya-Almanya B. Bulgaristan-Fransa
C. İngiltere-Osmanlı Devleti D. İtalya-Fransa

10. *Osmanlı Devleti'nin orduları dağıtıldı. Silahlarına el konuldu. Ulaşım ve haberleşme araçları da denetim altına alındı. Anadolu'nun çeşitli yerleri işgal edildi.*

Yukarıda verilenler aşağıdaki antlaşmalardan hangisinin sonuçlarındandır?

- A. Lozan Barış Antlaşması
B. Mondros Ateşkes Antlaşması
C. Sevr Antlaşması
D. Gümrü Antlaşması

11. I. Trablusgarp Savaşı
II. Sakarya Savaşı
III. Çanakkale Savaşı
IV. Birinci Dünya Savaşı



Yukarıdaki savaşlardan hangilerine Osmanlı Devleti'nin ordusunda görevli bir subay olarak katıldım?

- A. I-II-III B. I-II C. I-III-IV D. I-II-IV

12.



Verilen şehirlerden kaç Millî Mücadele sırasındaki başarıları nedeniyle unvan almıştır?

- A. 5 B. 4 C. 3 D. 2


13. Erzurum Kongresi'nde alınan kararlar sonucunda aşağıdakilerden hangisi gerçekleşmiştir?

- A. İtilaf Devletleri ile anlaşma imzalama düşüncesi
B. Kurtuluş Savaşı'nı sona erdirmeye ve cumhuriyeti ilan etme düşüncesi
C. Osmanlı Hükümeti ile birlikte hareket etme düşüncesi
D. Ulusal bir hükümet kurma ve ulusal egemenliği gerçekleştirme düşüncesi

14.

Anneciğim, Kütahya-Eskişehir Savaşı'ndaki yenilginin ardından Mustafa Kemal'e TBMM tarafından Başkomutanlık yetkisi verilmiştir.

Peki, Mustafa Kemal bu yetkiyi ilk kez nasıl kullanmıştır Elacığım?



Ela, aşağıdaki yanıtlardan hangisini söylerse annesinin sorusunu doğru yanıtlamış olur?

- A. Düzenli ordu birliklerini oluşturmuştur.
B. Tekalif-i Milliye Emirleri'ni yayımlamıştır.
C. Başkumandanlık Meydan Savaşı'nı yapmıştır.
D. Cumhuriyeti ilan etmiştir.

15.



Millî Mücadele Dönemi'nde tüm dünyanın yeni kurulan Türk Devleti'nin varlığını ve bağımsızlığını tanıdığı, ülkemizin bugünkü sınırlarının çizildiği antlaşma hangisidir?

- A. Lozan Barış Antlaşması
B. Mudanya Ateşkes Antlaşması
C. Sevr Antlaşması
D. Gümrü Antlaşması

Başarılar canlarım. ☺